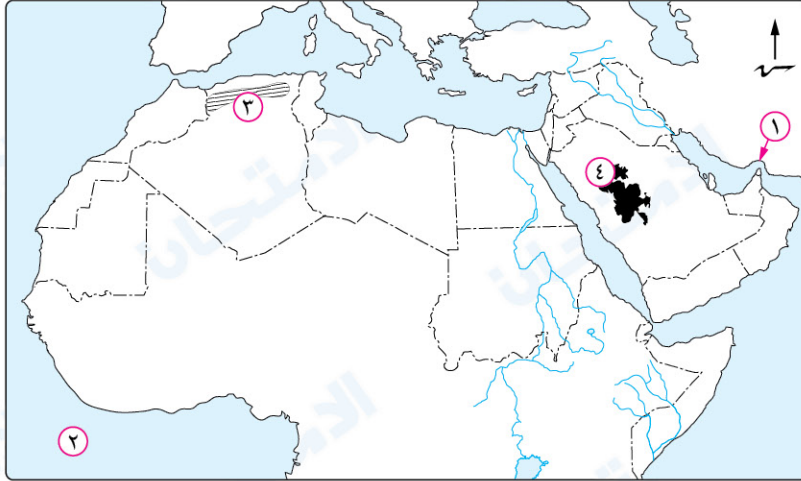


1 اختبار

أولاً : الجغرافيا

١ أمامك خريطة للوطن العربي، اكتب ما تدل عليه الأرقام التي عليها :



- ١ مضيق .....  
٢ المحيط .....  
٣ هضبة .....  
٤ جبال .....

٢ صوب ما تحته خط :

- ١ من المشكلات السياسية في الجناح العربي الأفريقي مشكلة فلسطين.  
٢ ينتج عن التعرية المائية أشكال تضاريسية مثل الكثبان الرملية.  
٣ تمتد هضبة أفريقيا الشمالية من المحيط الهادي شرقاً حتى المحيط الأطلنطي غرباً.

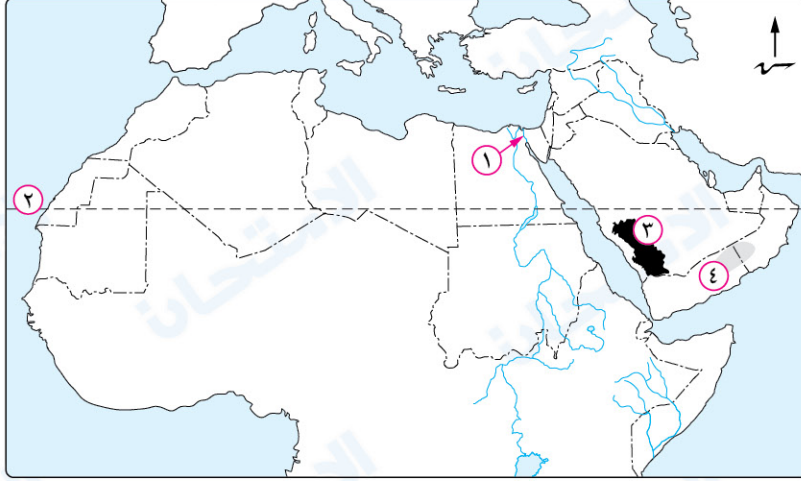
ثانياً : التاريخ

٣ اخترا الإجابة الصحيحة مما بين القوسين :

- ١ قامت في شمال شبه الجزيرة العربية مملكة ..... (سبأ - معين - حمير - الغساسنة)  
٢ اتجهت الرحلات التجارية التي كانت تنظمها مكة نحو جهتي ..... (الشمال والغرب - الجنوب والغرب - الشمال والجنوب - الجنوب والشرق)  
٣ خرج الرسول ﷺ تاجراً بمال السيدة خديجة إلى ..... (العراق - الشام - اليمن - مصر)  
٤ ارتبط الشعر والخطابة عند العرب قبل الإسلام بالنشاط ..... (الرعي - الصناعي - الزراعي - التجاري)  
٤ دلل تاريخياً على صحة العبارة الآتية : كانت شبه الجزيرة العربية مهداً لكثير من الأنبياء قبل ظهور الإسلام.

## أولاً : الجغرافيا

١ أمامك خريطة للوطن العربي، اكتب ما تدل عليه الأرقام التي عليها :



- ١ ممر مائي .....  
٢ دائرة عرض .....  
٣ جبال .....  
٤ هضبة .....

٢ اختر الإجابة الصحيحة مما بين القوسين :

- ١ يجد الوطن العربي من الغرب المحيط ..... (الهندي - الهادي - الأطلنطي - القطبي)  
٢ أدى تعرض الصخور الصلبة بالوطن العربي لحركات باطنية إلى تكون .....  
٣ الممر المائي الذي يصل بين خليجين عربيين هو ..... (جبال التوائية - جبال بركانية - جبال انكسارية - سهول فيضية)  
٤ مضيق هرمز - مضيق باب المندب - مضيق جبال طارق - قناة السويس

## ثانياً : التاريخ

٣ صوب ما تحته خط :

- ١ خضعت اليمن قبل الإسلام لحكم الروم.  
٢ بعد وفاة عبد المطلب جد الرسول ﷺ كفله عمه أبو لهب.  
٣ من أشهر شعراء العرب في شبه الجزيرة العربية قبل الإسلام زيد بن حارثة.  
٤ انتشرت الديانة المسيحية بدولة الفرس.  
٤ «كان النظام القبلي هو النظام السائد في شبه الجزيرة العربية». في ضوء العبارة السابقة وضح : أسباب شهرة مكة التجارية.

## 1 إجابة اختبار

- ١ ١ هرمز. ٢ الأطلنطي.  
 ٣ الشطوط. ٤ الحجاز.  
 ٢ ١ جنوب السودان. ٢ دالات الأنهار.  
 ٣ جبال البحر الأحمر.  
 ٣ ١ الغساسنة. ٢ الشمال والجنوب.  
 ٣ الشام. ٤ التجارى.  
 ٤ حيث ظهر عدة أنبياء في شبه الجزيرة العربية، مثل :  
 - هود عليه السلام. - صالح عليه السلام.  
 - إبراهيم عليه السلام. - إسماعيل عليه السلام.  
 - شعيب عليه السلام.

## 2 إجابة اختبار

- ١ ١ قناة السويس. ٢ مدار السرطان.  
 ٣ عسير. ٤ حضرموت.  
 ٢ ١ الأطلنطي. ٢ جبال انكسارية.  
 ٣ مضيق هرمز.  
 ٣ ١ الفرس. ٢ أبو طالب.  
 ٣ النابغة الذبياني. ٤ بيلاد الشام.  
 ٤ لأنهم كانوا يقومون بتنظيم رحلتين تجاريتين هما رحلة الشتاء لبلاد اليمن ورحلة الصيف لبلاد الشام.



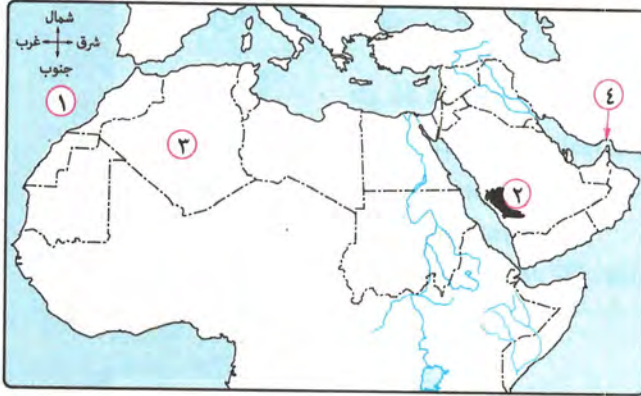
# تقييم الشهر الأول

١

## تدريب تقييمي

### أولاً الجغرافيا

### أجب عن الأسئلة الآتية:



١ أمامك خريطة للوطن العربي،

اكتب مدلول الأرقام التي عليها:

(١) المحيط .....

(٢) جبال .....

(٣) دولة .....

(٤) مضيق .....

٢ اختر الإجابة الصحيحة مما بين القوسين :

- (١) من المشكلات السياسية في الجناح العربي الآسيوي مشكلة .....  
( ستة ومليلة - فلسطين - دارفور - جنوب السودان )
- (٢) من السهول الساحلية الصالحة للزراعة بالوطن العربي سهول .....  
( البحر المتوسط - البحر الأحمر - خليج عدن - الخليج العربي )
- (٣) ممر مائي يفصل بين يابس دولتين عربييتين هو .....  
( مضيق هرمز - مضيق جبل طارق - مضيق باب المندب - قناة السويس )

### ثانياً التاريخ

٣ صوب ما تحته خط في العبارات الآتية :

- (١) قامت مملكة سبأ في شمال شبه الجزيرة العربية .
- (٢) استغرقت المرحلة الجهرية للدعوة الإسلامية ثلاث سنوات .
- (٣) توفي والد الرسول ﷺ أثناء عودته من رحلة تجارية قادمة من اليمن .
- (٤) كلف الرسول ﷺ عبدالله بن أبي بكر برعى الأغنام حول غار ثور .

٤ ماذا كان يحدث إذا : كان النجاشي ملك الحبشة ظالمًا ؟

أجب عن الأسئلة الآتية: أولاً الجغرافيا



١ أمامك خريطة للجناح العربي الآسيوي،

اكتب مدلول الأرقام التي عليها:

(١) خليج .....

(٢) نهر .....

(٣) دولة تشرف على مضيق هرمز .....

(٤) هضبة .....

٢ صوب ما تحته خط في العبارات الآتية:

(١) تقع دولة موريتانيا عند تقاطع دائرة عرض ١٢° جنوبًا وخط طول ٤٤° شرقًا.

(٢) توجد واحة الكفرة في دولة الجزائر.

(٣) من الدول العربية المطلة على البحر المتوسط مصر وليبيا والسودان.

ثانياً التاريخ

٣ اختر الإجابة الصحيحة مما بين القوسين:

(١) دبر زعماء قريش مؤامرة لقتل الرسول ﷺ أثناء اجتماعهم في .....

( منطقة العقبة - دار الندوة - دار الأرقم - ديار بني سعد )

(٢) بنى أبرهة الحبشي كنيسة في .....

( العراق - اليمن - الشام - مكة )

(٣) رافق الرسول ﷺ في رحلة تجارية إلى بلاد الشام ليتاجر بمال السيدة خديجة.

( مصعب بن عمير - ميسرة - زيد بن حارثة - أبي طالب )

(٤) يدل لجوء السيدة خديجة لورقة بن نوفل في مسألة الوحي على أهمية الاعتماد على .....

( الأصدقاء - أهل العلم - الأقارب - أصحاب النفوذ )

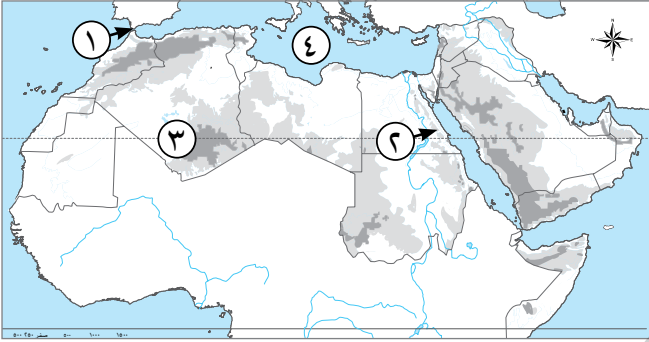
٤ بم تفسر: كان العالم في حاجة إلى مجيء الرسول ﷺ ؟

# اختبارات 2024

## نموذج (١)

### السؤال الأول

أمامك خريطة صماء للوطن العربي، وضح ما تدل عليه الأرقام:



- ١ مضيق .....
- ٢ جبال .....
- ٣ مدار .....
- ٤ البحر .....

### السؤال الثاني

اكتب كلمة (صواب) أمام العبارة الصحيحة، وكلمة (خطأ) أمام العبارة غير الصحيحة:

- ١ تعد الأردن من الدول العربية الإفريقية. (.....)
- ٢ تعد الكثبان الرملية من آثار التعرية المائية في الوطن العربي. (.....)
- ٣ انتشرت الديانة اليهودية في أجزاء قليلة من شبه الجزيرة العربية قبل الإسلام. (.....)
- ٤ يمتد نسب الرسول ﷺ إلى إسماعيل بن إبراهيم عليهما السلام. (.....)

### السؤال الثالث

اختر الإجابة الصحيحة مما بين الأقواس:

- ١ كفل الرسول ﷺ بعد وفاة أمه أمينة بنت وهب .....  
( جده عبد المطلب - عمه العباس - عمه أبو طالب - حليلة السعدية )
- ٢ كانت الحرفة السائدة في البادية في شبه الجزيرة العربية .....  
( التجارة - الزراعة - الصناعة - الرعى )
- ٣ من السهول الساحلية في الوطن العربي الصالحة للزراعة سهول .....  
( البحر الأحمر - البحر المتوسط - الخليج العربي - خليج عدن )

### السؤال الرابع

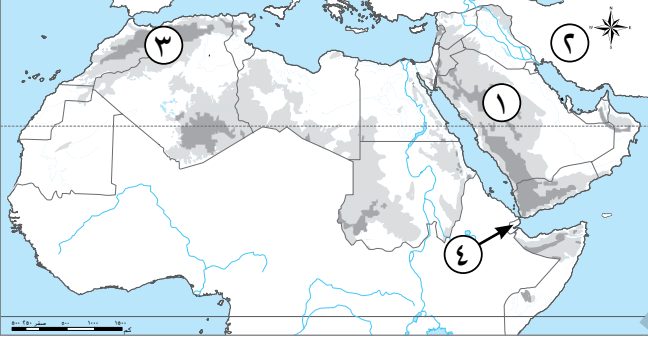
ما المقصود ب...؟ الموقع الفلكي.

.....

## نموذج (٢)

### السؤال الأول

أمامك خريطة صماء للوطن العربي، وضح ما تدل عليه الأرقام:



- ١ هضبة .....
- ٢ دولة .....
- ٣ جبال .....
- ٤ دولة .....

### السؤال الثاني

صوب ما تحته خط:

- ١ يقع خليج عدن جنوب دولة الإمارات .
- ٢ تعد هضبة حضر موت من أهم مظاهر هضبة إفريقيا الشمالية .
- ٣ من أشهر شعراء العرب قديماً مصعب بن عمير .
- ٤ دفن عبد الله والد الرسول ﷺ في الطائف .

### السؤال الثالث

حدد المختلف من المجموعات التالية، مع ذكر السبب:

- ١ سوريا - تونس - العراق - الأردن .
- ٢ جبال كردستان - جبال زاغروس - جبال عسير - جبال عمان .
- ٣ معين - حمير - الحيرة - سبأ .

### السؤال الرابع

دل على صحة العبارة الآتية:

رفض النبي ﷺ أن يكون عبئاً على عمه .

## نموذج (٣)

### السؤال الأول

أمامك خريطة صماء للوطن العربي، وضح ما تدل

عليه الأرقام:

١ مضيق .....

٢ المحيط .....

٣ مضيق .....

٤ هضبة .....

### السؤال الثاني

اختر الإجابة الصحيحة مما بين الأقواس:

١ يمر في جنوب الوطن العربي .....

(دائرة الاستواء - مدار السرطان - مدار الجدى - الدائرة القطبية)

٢ من آثار التعرية الهوائية .....

(السهول الفيضية - الأودية الجافة - الكثبان الرملية - السهول الساحلية)

٣ من الممالك التي قامت في جنوب شبه الجزيرة العربية قبل الإسلام .....

(الغساسنة - معين - الحيرة - تدمر)

### السؤال الثالث

اكتب كلمة (صواب) أمام العبارة الصحيحة، وكلمة (خطأ) أمام العبارة غير الصحيحة:

١ جميع الدول العربية تمتلك سواحل تطل على بحار أو محيطات أو الاثنين معاً. (.....)

٢ من أمثلة الجبال الانكسارية جبال أطلس. (.....)

٣ اليهودية هي ديانة سيدنا موسى عليه السلام. (.....)

٤ عرف العام الذى ولد فيه الرسول ﷺ بعام الحزن. (.....)

### السؤال الرابع

بم تفسر...؟ المكانة التجارية المتميزة لمكة.

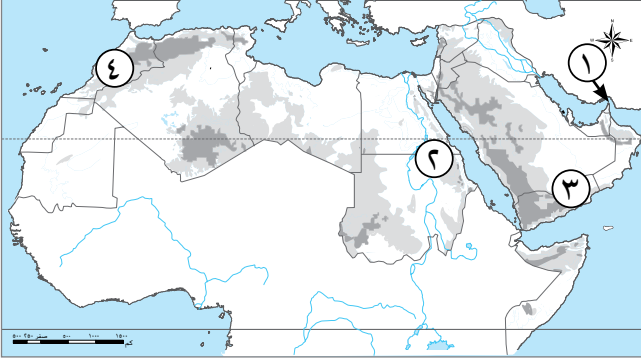
.....



## نموذج (٤)

### السؤال الأول

أمامك خريطة صماء للوطن العربي، وضح ما تدل عليه الأرقام:



- ١ مضيق .....
- ٢ جبال .....
- ٣ هضبة .....
- ٤ دولة .....

### السؤال الثاني

اكتب كلمة (صواب) أمام العبارة الصحيحة، وكلمة (خطأ) أمام العبارة غير الصحيحة:

- ١ تعرف جبال البحر الأحمر في السعودية بجبال كردستان وجبال زاغروس. (.....)
- ٢ ساد النظام القبلي في شبه الجزيرة العربية قبل الإسلام. (.....)
- ٣ مكث الرسول ﷺ في بيت حليلة السعدية ثلاث سنوات. (.....)

### السؤال الثالث

اختر الإجابة الصحيحة مما بين الأقواس:

- ١ تعد جبال ..... من الجبال الالتوائية في وطننا العربي. (البحر الأحمر - عسير - عمان - الشام)
- ٢ تعتبر هضبة ..... من هضاب الجناح العربي الإفريقي. (بادية الشام - نجد - الشطوط - حضرموت)
- ٣ من البلاد التي احتلها الروم ..... (مكة - العراق - اليمن - مصر)
- ٤ خضعت اليمن قبل الإسلام لحكم ..... (الروم - الفرس - الهند - مصر)

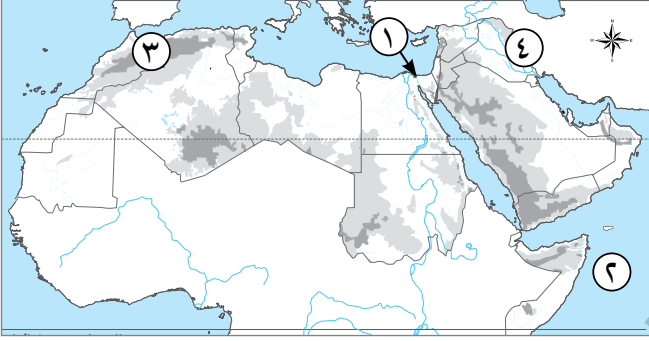
### السؤال الرابع

حدد الاسم غير المناسب للمجموعة، ولماذا: التواءات - انكسارات - تعرية هوائية - براكين.

## نموذج (هـ)

### السؤال الأول

أمامك خريطة صماء للوطن العربي، وضح ما تدل عليه الأرقام:



- ١ ممر مائي .....
- ٢ المحيط .....
- ٣ جبال .....
- ٤ جبال .....

### السؤال الثاني

اكتب كلمة (صواب) أمام العبارة الصحيحة، وكلمة (خطأ) أمام العبارة غير الصحيحة:

- ١ من المشكلات السياسية في الجناح الآسيوي للوطن العربي مشكلة فلسطين. (.....)
- ٢ تمتد هضبة نجد في وسط ليبيا. (.....)
- ٣ كانت حرفة الزراعة هي الحرفة السائدة في شبه الجزيرة العربية. (.....)
- ٤ فرح عبد المطلب وبنو هاشم جميعًا بمولد الرسول ﷺ. (.....)

### السؤال الثالث

اختر الإجابة الصحيحة مما بين الأقواس:

- ١ أكبر هضاب الوطن العربي مساحة ..... (حضرموت - إثيوبيا - بادية الشام - إفريقيا الشمالية)
- ٢ وقعت دولة ..... تحت سيطرة الروم. (مصر - عمان - اليمن - العراق)
- ٣ خرج النبي ﷺ تاجرًا بمال خديجة مع غلامها ميسرة إلى ..... (مصر - الشام - اليمن - العراق)

### السؤال الرابع

ما النتائج المترتبة على...؟ تعرض الوطن العربي لحركات التوائية.

## إجابة نموذج (١)

### السؤال الأول

١ جبل طارق .

٣ السرطان .

٢ البحر الأحمر .

٤ المتوسط .

### السؤال الثاني

١ (خطأ)

٣ (صواب)

٢ (خطأ)

٤ (صواب)

### السؤال الثالث

١ جده عبد المطلب .

٣ البحر المتوسط .

٢ الرعى .

### السؤال الرابع

الموقع بالنسبة لدوائر العرض وخطوط الطول .

## إجابة نموذج (٢)

### السؤال الأول

١ نجد.

٣ أطلس.

٢ إيران.

٤ جيبوتي.

### السؤال الثاني

١ اليمن.

٣ النابغة الذبياني.

٢ الشطوط.

٤ يثرب.

### السؤال الثالث

١ تونس، لأنها من دول الجناح الإفريقي، بينما باقي المجموعة من دول الجناح الآسيوي.

٢ جبال عسير لأنها من الجبال الانكسارية، بينما باقي المجموعة من الجبال الالتوائية.

٣ الحيرة؛ لأنها من ممالك شمال شبه الجزيرة العربية، بينما باقي المجموعة ممالك ظهرت في جنوب شبه الجزيرة العربية.

### السؤال الرابع

حيث خرج ليعمل في طفولته برعى الأغنام ليساعده ويخفف عنه.

## إجابة نموذج (٣)

### السؤال الأول

١ باب المنذب.

٢ الأطلنطى.

٣ هرمز.

٤ نجد.

### السؤال الثانى

١ دائرة الاستواء.

٣ معين.

### السؤال الثالث

١ (صواب)

٣ (صواب)

### السؤال الرابع

لأنهم كانوا ينظمون أكبر رحلتين للتجارة، وهما: رحلة الشتاء إلى بلاد اليمن، ورحلة الصيف إلى بلاد الشام.

٢ الكتبان الرملية.

٢ (خطأ)

٤ (خطأ)

## إجابة نموذج (٤)

### السؤال الأول

١ هرمز.

٣ حضرموت.

٢ البحر الأحمر.

٤ المغرب.

### السؤال الثاني

١ (خطأ)

٣ (خطأ)

٢ (صواب)

### السؤال الثالث

١ عمان.

٣ مصر.

٢ الشطوط.

٤ الفرس.

### السؤال الرابع

تعريف هوائية: لأنها من العوامل الخارجة التي شكلت سطح الأرض، بينما باقي المجموعة من العوامل الداخلية.

## إجابة نموذج (هـ)

### السؤال الأول

١ قناة السويس.

٣ أطلس.

٢ الهندى.

٤ زاجروس.

### السؤال الثانى

١ (صواب)

٣ (خطأ)

٢ (خطأ)

٤ (صواب)

### السؤال الثالث

١ إفريقيا الشمالية.

٣ الشام.

٢ مصر.

### السؤال الرابع

أدت إلى تكوين سلاسل جبلية مرتفعة.

## اختبار (١) الشهر الأول

محافظة المنوفية (إدارة أشمون التعليمية)

السؤال الأول أملك خريطة صماء للوطن العربي، اكتب ما تدل عليه الأرقام التالية:



- ١- جبال .....  
٢- البحر.....

### السؤال الثاني

اختر الإجابة الصحيحة من بين (١)، (ب)، (ج)، (د):

- ١- يوجد مسجد قبة الصخرة في دولة .....  
(أ) اليمن. (ب) العراق. (ج) فلسطين. (د) السعودية.  
٢- خروج النبي ﷺ للعمل بحرفة الرعي يدل على .....  
(أ) الرحمة. (ب) العطف. (ج) تحمل المسؤولية. (د) الصبر.  
٣- ولد النبي ﷺ في القرن ..... الميلادي.  
(أ) الخامس. (ب) السادس. (ج) السابع. (د) الرابع.

### السؤال الثالث

اكتب كلمة (صواب) أمام العبارة الصحيحة، وكلمة (خطأ) أمام العبارة غير الصحيحة:

- ١- نشأت جبال الوطن العربي شرق البحر المتوسط نتيجة حركات التوائية. ( )  
٢- حاول أبو لهب هدم الكعبة حتى ينصرف الناس عن زيارتها. ( )  
٣- البدو هم أهل الصحراء ويعملون بالتجارة. ( )  
٤- من أشهر أسواق العرب قبل الإسلام عكاظ. ( )

### السؤال الرابع

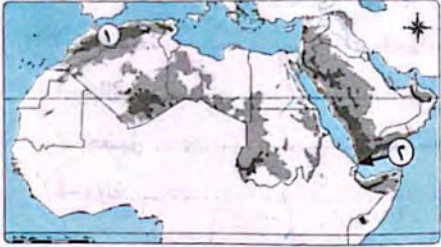
ما النتائج المترتبة على...؟

- امتداد حدود الوطن العربي مع ظواهر طبيعية.

## اختبار (٢) الشهر الأول

محافظة الغربية (إدارة شرق طنطا التعليمية)

السؤال الأول (١) أملك خريطة صماء للوطن العربي، اكتب ما تدل عليه الأرقام الآتية:



- ١- جبال .....  
٢- مضيق.....

(ب) اختر الإجابة الصحيحة مما بين الأقواس:

١- تقع دولة جزر القمر جنوب دائرة الاستواء في .....

(البحر المتوسط - البحر الأحمر - المحيط الأطلسي - المحيط الهندي)

٢- كانت حرفة ..... هي الحرفة السائدة في البادية قبل الإسلام.

(الرعي - الزراعة - التجارة - الصيد)

٣- مكث الرسول ﷺ في بيت حليلة السعدية .....

(سنتين - ثلاث سنوات - أربع سنوات - خمس سنوات)

السؤال الثاني اكتب كلمة (صواب) أمام العبارة الصحيحة، وكلمة (خطأ) أمام العبارة

غير الصحيحة:

- ١- تقع هضبة نجد جنوب شبه الجزيرة العربية. ( )  
٢- لم تقف التضاريس عائقاً أمام الوحدة العربية. ( )  
٣- يمتد نسب الرسول ﷺ إلى إسماعيل بن إبراهيم عليهما السلام. ( )  
٤- عرف الرسول ﷺ في شبابه بالصادق الأمين. ( )

### السؤال الثالث

ما النتائج المترتبة على...؟

- الأهمية الاستراتيجية لموقع الوطن العربي.



## اختبار الأضواء الشهر الأول

### أولاً الجغرافيا

#### السؤال الأول

( ١ ) أملك خريطة صماء للوطن العربي، وضح ما تدل عليه الأرقام الموقعة عليها:



- ١- المحيط .....
- ٢- جبال .....
- ٣- مضيق .....
- ٤- دولة .....

( ب ) بم تفسر...؟

١- الأهمية الاستراتيجية للوطن العربي.

٢- أهمية الواحات في الوطن العربي.

#### السؤال الثاني

( ١ ) أكمل العبارات الآتية بما يناسبها من كلمات:

- ١- تقع هضبة ..... في وسط شبه الجزيرة العربية.
- ٢- تشرف دولة المغرب على مضيق .....
- ٣- تكونت السهول الصخرية بواسطة .....
- ٤- يمر داخل الوطن العربي دائرتا عرض رئيسيتان وهما دائرة الاستواء و .....

( ب ) ما المقصود بـ...؟

١- الموقع الفلكي:

٢- السهول:

( ج ) حدد أوجه الشبه والاختلاف بين كل من:

- السهول الساحلية والسهول الفيضية ، مع ذكر مثال لكل منهما.

## ثانياً التاريخ

#### السؤال الثالث

( ١ ) اكتب كلمة صواب أمام العبارة الصحيحة وكلمة خطأ أمام العبارة

غير الصحيحة مع التصويب:

- ١- تعتبر قبيلة ثقيف بالطائف أشهر القبائل العربية في بلاد الحجاز. ( )
- ٢- عمل الرسول ﷺ في طفولته ليساعد جده عبد المطلب. ( )
- ٣- كانت مصر قبل الإسلام تخضع لحكم الفرس. ( )
- ٤- مكث الرسول ﷺ في بيت حليمة السعدية أربعة أعوام. ( )

( ب ) رتب مراحل حياة الرسول ﷺ من القديم إلى الحديث:

وفاة جد الرسول ﷺ - وفاة والد الرسول ﷺ - وفاة والد الرسول ﷺ - نشأة الرسول ﷺ في البادية - ميلاد الرسول ﷺ - زواج الرسول ﷺ من السيدة خديجة.

( ج ) ماذا كان يحدث إذا...؟

- كثرت الأمطار يشبه الجزيرة العربية.

#### السؤال الرابع

( ١ ) اكتب ما تشير إليه كل عبارة من العبارات الآتية:

- ١- أشهر نساء المجتمع العربي في شبه الجزيرة العربية قبل الإسلام. (.....)
- ٢- من أشهر الشعراء العرب في شبه الجزيرة العربية قبل الإسلام. (.....)
- ٣- حاول هدم الكعبة ليصرف الناس عن زيارتها. (.....)
- ٤- تولى تربية الرسول ﷺ بعد وفاة أمه. (.....)

( ب ) دلل تاريخياً على صحة العبارة التالية:

- لم تكن أسواق العرب للتجارة فقط.

( ج ) بم تفسر...؟

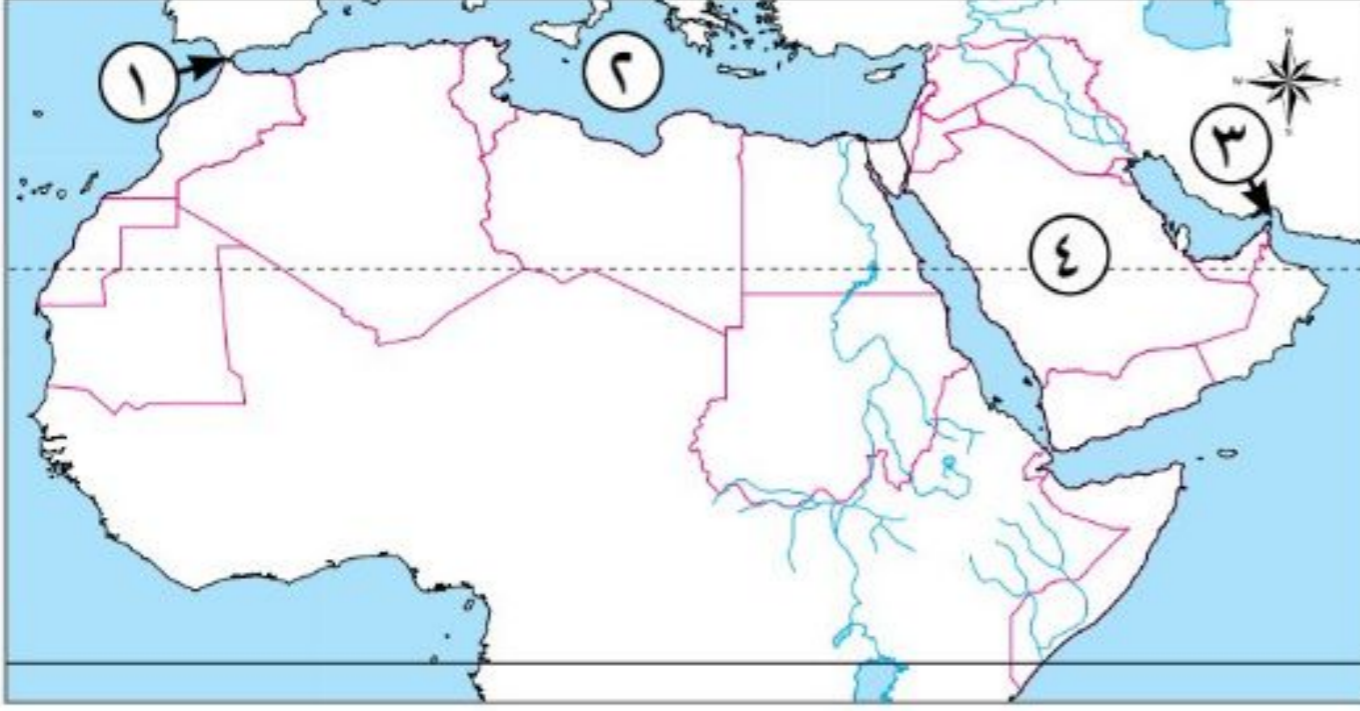
- كان من عادات العرب إرسال أبنائهم إلى البادية.

# اختبارات 2023

## نموذج (١)

### السؤال الأول

أمامك خريطة صماء للوطن العربي ، وضح ما تدل عليه الأرقام:



- ١ مضيق .....
- ٢ البحر .....
- ٣ مضيق .....
- ٤ هضبة .....

### السؤال الثاني

اختر الإجابة الصحيحة مما بين الأقواس:

- ١ من الحضارات التي قامت بالجنح الإفريقي .....
- (الحضارة المصرية القديمة - حضارات بلاد العراق - حضارة بلاد اليمن - حضارات بلاد الشام)
- ٢ الدولة العربية التي تقع خارج الامتداد الفلكي للوطن العربي هي .....
- (موريتانيا - البحرين - جزر القمر - المغرب)
- ٣ من الممالك التي قامت في شمال شبه الجزيرة العربية قبل الإسلام .....
- (الغساسنة - معين - سبأ - حمير)

### السؤال الثالث

اكتب كلمة (صواب) أمام العبارة الصحيحة، وكلمة (خطأ) أمام العبارة غير الصحيحة:

- ١ جميع الدول العربية تمتلك سواحل تطل على بحار أو محيطات أو الاثنين معاً. (.....)
- ٢ من أمثلة الجبال الانكسارية جبال أطلس. (.....)
- ٣ اليهودية هي ديانة سيدنا موسى عليه السلام. (.....)
- ٤ عرف العام الذي ولد فيه الرسول ﷺ بعام الحزن. (.....)

### السؤال الرابع

بم تفسر...؟ أهمية الأودية الجافة في الوطن العربي.

.....

## نموذج (٢)

### السؤال الأول

اختر الإجابة الصحيحة مما بين الأقواس:

- ١ تعد جبال ..... من الجبال الالتوائية في وطننا العربي. (البحر الأحمر - عسير - عمان - الشام)
- ٢ تعتبر هضبة ..... من هضاب الجناح العربي الإفريقي. (بادية الشام - نجد - الشطوط - حضرموت)
- ٣ من البلاد التي احتلها الروم ..... (مكة - العراق - اليمن - مصر)
- ٤ خضعت اليمن قبل الإسلام لحكم ..... (الروم - الفرس - الهند - مصر)

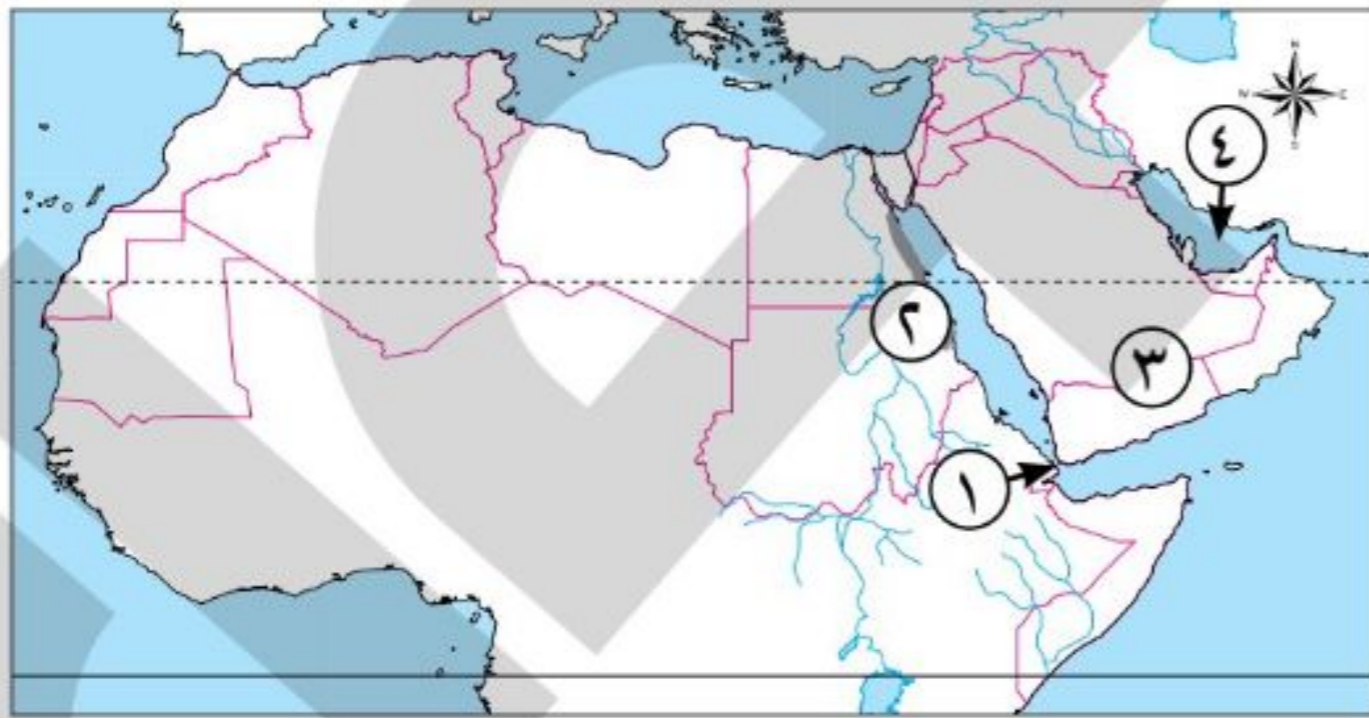
### السؤال الثاني

اكتب كلمة (صواب) أمام العبارة الصحيحة، وكلمة (خطأ) أمام العبارة غير الصحيحة:

- ١ تعرف جبال البحر الأحمر في السعودية بجبال كردستان وجبال زاغروس. (.....)
- ٢ ساد النظام القبلي في شبه الجزيرة العربية قبل الإسلام. (.....)
- ٣ تمتعت مكة بمكانة تجارية عظيمة. (.....)

### السؤال الثالث

أمامك خريطة صماء للوطن العربي، وضح ما تدل عليه الأرقام:



- ١ مضيق .....
- ٢ جبال .....
- ٣ هضبة .....
- ٤ الخليج .....

### السؤال الرابع

بم تفسر...؟ تسمية العام الذي ولد فيه الرسول ﷺ بعام الفيل.

.....

## نموذج (٣)

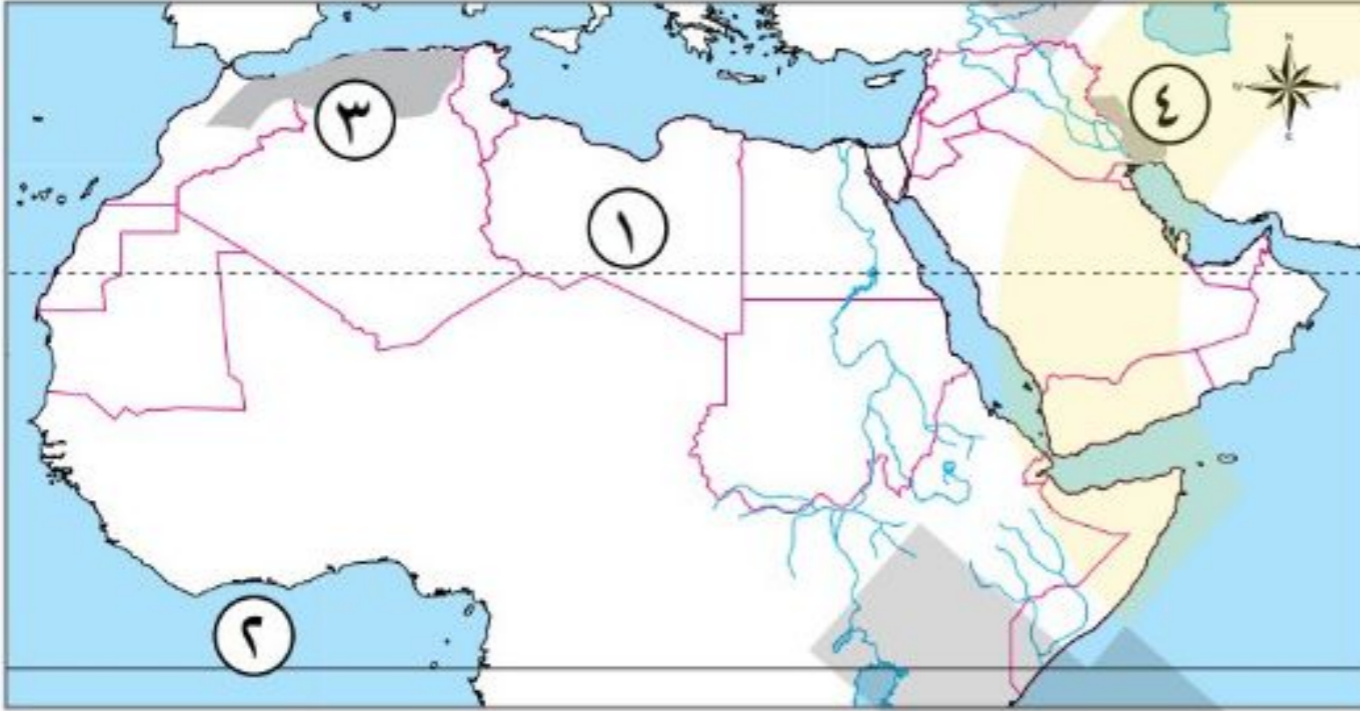
### السؤال الأول

اكتب كلمة (صواب) أمام العبارة الصحيحة، وكلمة (خطأ) أمام العبارة غير الصحيحة:

- ١ يجد وطننا العربي من الشمال البحر الأحمر وجبال طوروس. (.....)
- ٢ تقع جزر القمر في المحيط الهندي شمال دائرة الاستواء. (.....)
- ٣ كانت حرفة الزراعة هي الحرفة السائدة في شبه الجزيرة العربية. (.....)
- ٤ فرح عبد المطلب وبنو هاشم جميعًا بمولد الرسول ﷺ. (.....)

### السؤال الثاني

أمامك خريطة صماء للوطن العربي، وضح ما تدل عليه الأرقام:



- ١ دولة ..... .
- ٢ المحيط ..... .
- ٣ جبال ..... .
- ٤ جبال ..... .

### السؤال الثالث

اختر الإجابة الصحيحة مما بين الأقواس:

- ١ من الدول العربية في الجناح الآسيوي ..... (الصومال - موريتانيا - العراق - المغرب)
- ٢ أشهر القبائل العربية في مكة قبل الإسلام ..... (ثقيف - قريش - هوازن - الخزرج)
- ٣ خرج النبي ﷺ تاجرًا بمال خديجة مع غلامها ميسرة إلى ..... (مصر - الشام - اليمن - العراق)

### السؤال الرابع

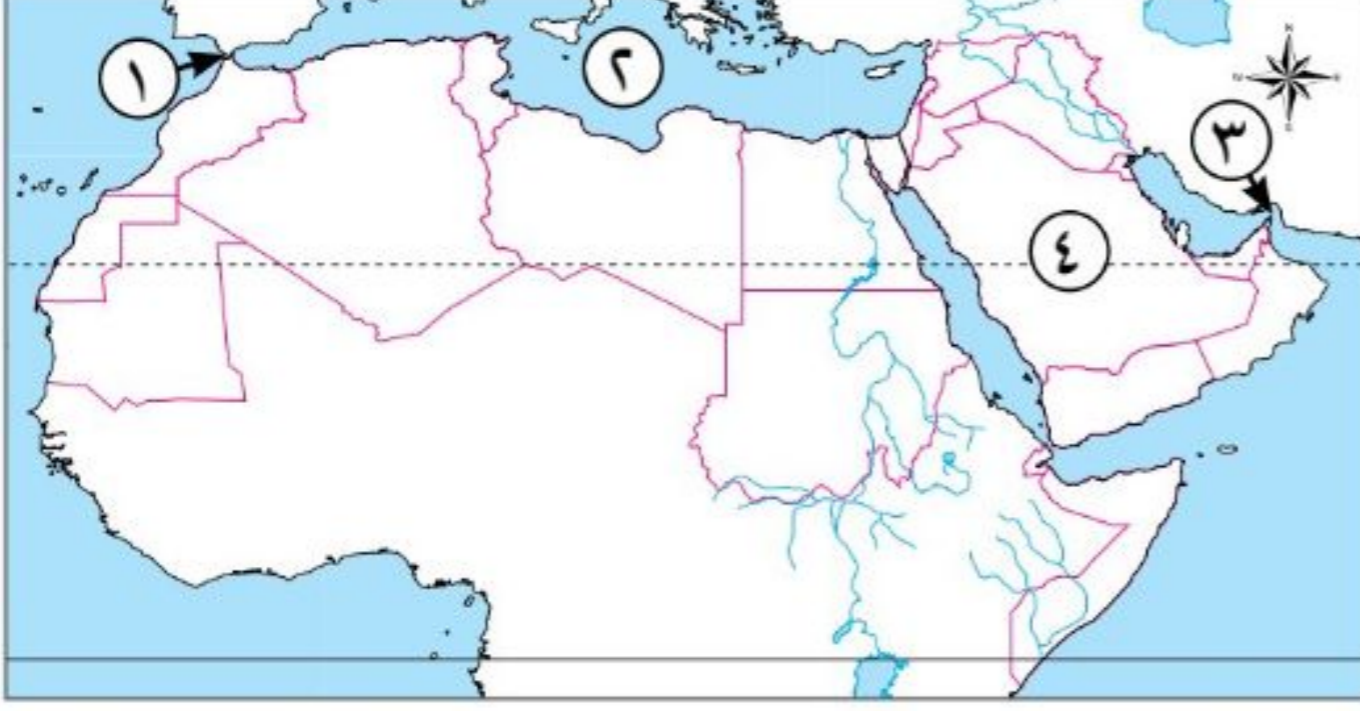
ما النتائج المترتبة على...؟ تعرض الوطن العربي لحركات التوائية.

.....

## إجابة نموذج (١)

### السؤال الأول

أمامك خريطة صماء للوطن العربي ، وضح ما تدل عليه الأرقام:



- ١ مضيق جبل طارق.
- ٢ البحر المتوسط.
- ٣ مضيق هرمز.
- ٤ هضبة نجد.

### السؤال الثاني

اختر الإجابة الصحيحة مما بين الأقواس:

- ١ من الحضارات التي قامت بالجنح الإفريقي .....  
( الحضارة المصرية القديمة - حضارات بلاد العراق - حضارة بلاد اليمن - حضارات بلاد الشام )
- ٢ الدولة العربية التي تقع خارج الامتداد الفلكي للوطن العربي هي .....  
( موريتانيا - البحرين - جزر القمر - المغرب )
- ٣ من الممالك التي قامت في شمال شبه الجزيرة العربية قبل الإسلام .....  
( الغساسنة - معين - سبأ - حمير )

### السؤال الثالث

اكتب كلمة (صواب) أمام العبارة الصحيحة، وكلمة (خطأ) أمام العبارة غير الصحيحة:

- ١ جميع الدول العربية تمتلك سواحل تطل على بحار أو محيطات أو الاثنين معاً. (صواب)
- ٢ من أمثلة الجبال الانكسارية جبال أطلس. (خطأ)
- ٣ اليهودية هي ديانة سيدنا موسى عليه السلام. (صواب)
- ٤ عرف العام الذي ولد فيه الرسول ﷺ بعام الحزن. (خطأ)

### السؤال الرابع

بم تفسر...؟ أهمية الأودية الجافة في الوطن العربي.  
لأنها: - تستخدم كطرق للمواصلات.  
- يسهل الحصول منها على المياه الجوفية.

## إجابة نموذج (٢)

### السؤال الأول

اختر الإجابة الصحيحة مما بين الأقواس:

- ١ تعد جبال ..... من الجبال الالتوائية في وطننا العربي. (البحر الأحمر - عسير - عمان - الشام)
- ٢ تعتبر هضبة ..... من هضاب الجناح العربي الإفريقي. (بادية الشام - نجد - الشطوط - حضرموت)
- ٣ من البلاد التي احتلها الروم ..... (مكة - العراق - اليمن - مصر)
- ٤ خضعت اليمن قبل الإسلام لحكم ..... (الروم - الفرس - الهند - مصر)

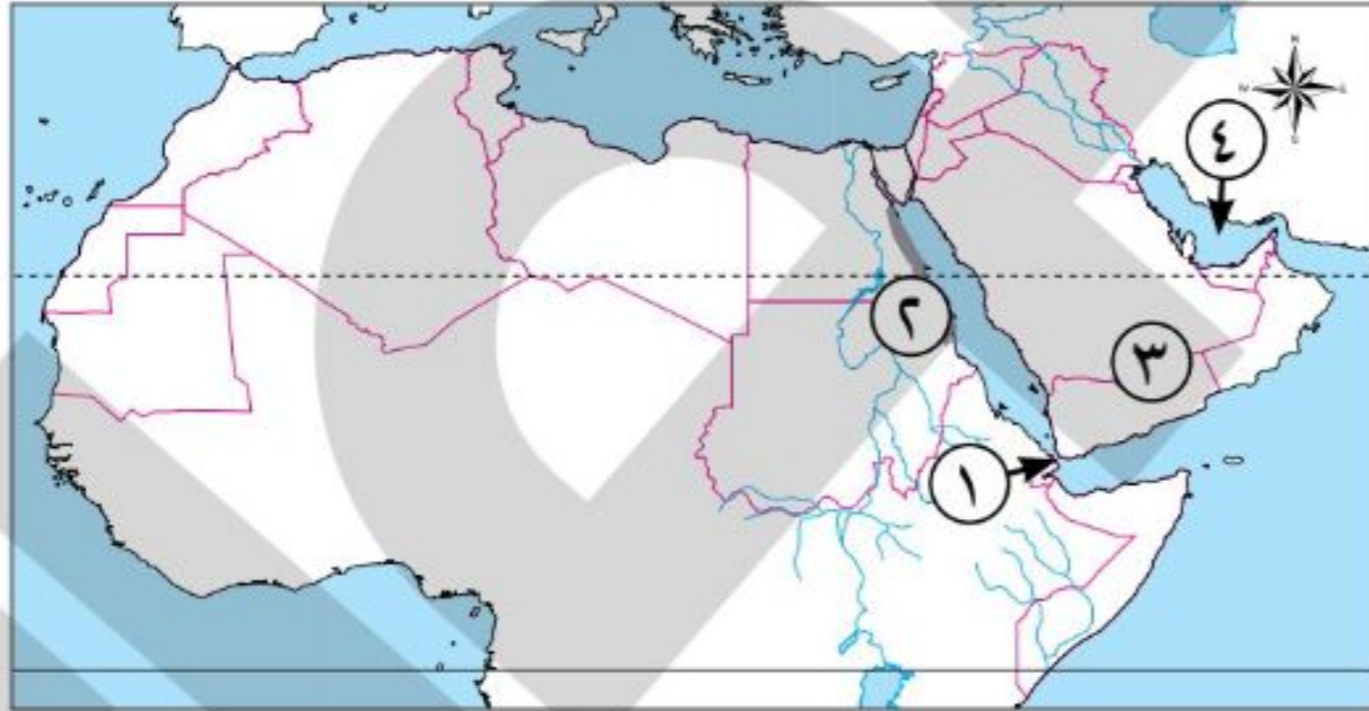
### السؤال الثاني

اكتب كلمة (صواب) أمام العبارة الصحيحة، وكلمة (خطأ) أمام العبارة غير الصحيحة:

- ١ تعرف جبال البحر الأحمر في السعودية بجبال كردستان وجبال زاجروس. (خطأ)
- ٢ ساد النظام القبلي في شبه الجزيرة العربية قبل الإسلام. (صواب)
- ٣ تمتعت مكة بمكانة تجارية عظيمة. (صواب)

### السؤال الثالث

أمامك خريطة صماء للوطن العربي، وضع ما تدل عليه الأرقام:



- ١ مضيق باب المندب.
- ٢ جبال البحر الأحمر.
- ٣ هضبة حضرموت.
- ٤ الخليج العربي.

### السؤال الرابع

بم تفسر...؟ تسمية العام الذي ولد فيه الرسول ﷺ بعام الفيل.

لأنه في هذا العام حاول أبرهة الحبشي (حاكم اليمن) هدم الكعبة بجيش كبير يضم عددًا من الفيلة، ليصرف العرب عن زيارتها وتعظيمها؛ ليتجهوا إلى كنيسته التي بناها بأرض اليمن.

## إجابة نموذج (٣)

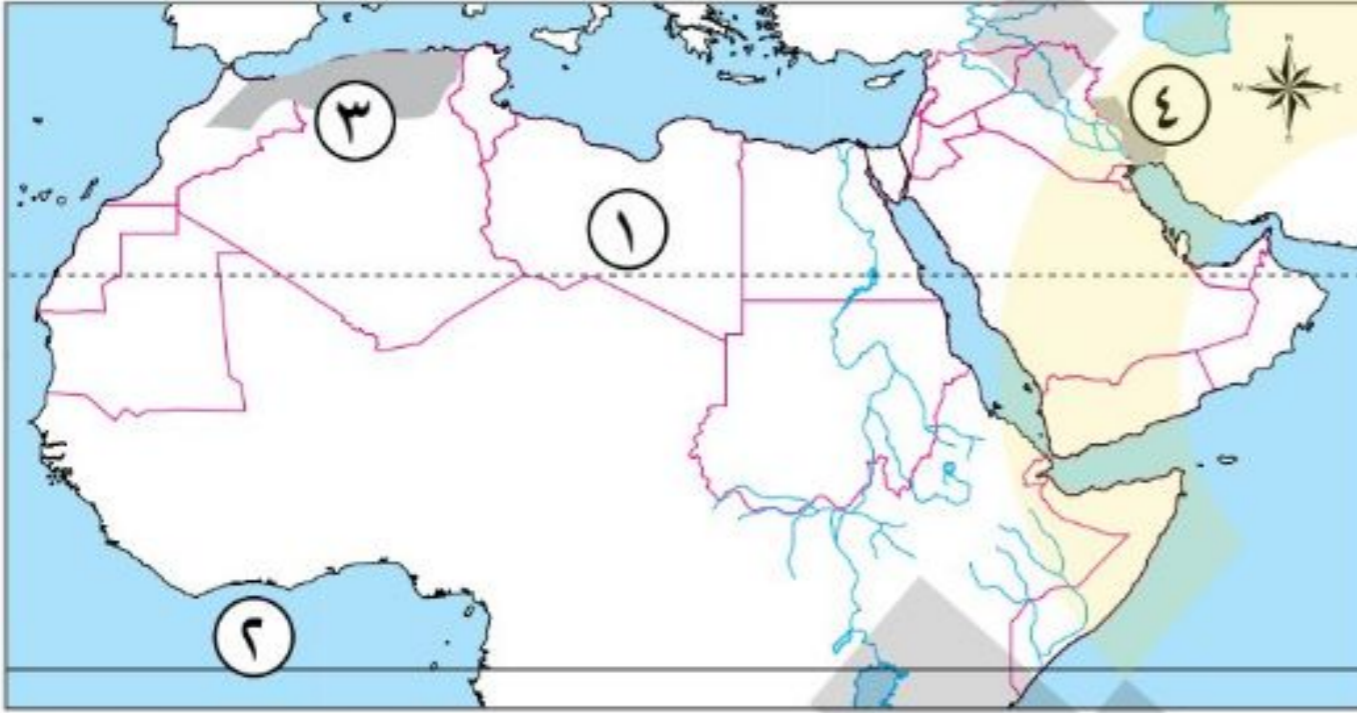
### السؤال الأول

اكتب كلمة (صواب) أمام العبارة الصحيحة، وكلمة (خطأ) أمام العبارة غير الصحيحة:

- ١ يجد وطننا العربي من الشمال البحر الأحمر وجبال طوروس. (خطأ)
- ٢ تقع جزر القمر في المحيط الهندي شمال دائرة الاستواء. (خطأ)
- ٣ كانت حرفة الزراعة هي الحرفة السائدة في شبه الجزيرة العربية. (خطأ)
- ٤ فرح عبد المطلب وبنو هاشم جميعًا بمولد الرسول ﷺ. (صواب)

### السؤال الثاني

أمامك خريطة صماء للوطن العربي، وضح ما تدل عليه الأرقام:



- ١ دولة ليبيا.
- ٢ المحيط الأطلنطي.
- ٣ جبال أطلس.
- ٤ جبال زاغروس.

### السؤال الثالث

اختر الإجابة الصحيحة مما بين الأقواس:

- ١ من الدول العربية في الجناح الآسيوي ..... (الصومال - موريتانيا - العراق - المغرب)
- ٢ أشهر القبائل العربية في مكة قبل الإسلام ..... (ثقيف - قريش - هوازن - الخزرج)
- ٣ خرج النبي ﷺ تاجرًا بمال خديجة مع غلامها ميسرة إلى ..... (مصر - الشام - اليمن - العراق)

### السؤال الرابع

ما النتائج المترتبة على...؟ تعرض الوطن العربي لحركات التوائية.

أدت إلى تكوين سلاسل جبلية مرتفعة، مثل جبال: أطلس وعمان وزاجروس وكردستان.

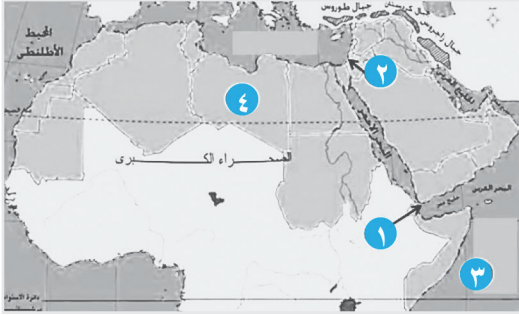
## نموذج إمتحان

## موقع ومساحة الوطن العربي

1

## الدرس

## السؤال الأول أ أمامك خريطة للوطن العربي وضع ما تدل عليه الأرقام:



- ١- مضيق .....
- ٢- مشكلة سياسية آسيوية.....
- ٣- مسطح مائي .....
- ٤- دولة إفريقية .....

## ب بم تفسر:

- ١- ظهور مشكلات سياسية بالوطن العربي.

.....

.....

- ٢- احتفاظ الوطن العربي بشخصيته العربية المميزة.

.....

.....

- ٣- لموقع الوطن العربي أهمية حضارية.

.....

.....

- ٤- انقسام الوطن العربي إلى دول متباينة المساحة.

.....

.....

## السؤال الثاني أ أسئلة متنوعة (فكر وأبج):

- ١- ما العلاقة بين: الوطن العربي وطرق التجارة العالمية

.....

.....



٢- ما المقصود ب: موقع جغرافي

.....  
.....

٣- ماذا يحدث إذا: لم يتواجد البترول والغاز الطبيعي في ارض الوطن العربي

.....  
.....

٤- ما النتائج التي ترتبت على: الموقع الفلكي للوطن العربي

.....  
.....

**ب** ضع علامة صواب أمام العبارة الصحيحة وعلامة خطأ أمام العبارة الخاطئة:

- ١- تصل قناة السويس بين البحر الأحمر والبحر المتوسط ( )
- ٢- تشرف اليمن على مضيق باب المندب ( )
- ٣- تقع جزر القمر في المحيط الهندي شمال دائرة الاستواء ( )
- ٤- يعد مضيق باب المندب المدخل الجنوبي للبحر الأحمر ( )

**ج** اختر الإجابة الصحيحة مما بين الأقواس:

- ١- يصل مضيق ..... خليج عُمان والخليج العربي  
(باب المندب - هرمز - جبل طارق - قناة السويس)
- ٢- من المشكلات السياسية في الوطن العربي .....  
(الإعالة - البطالة - الأمية - فلسطين)
- ٣- يطل الوطن العربي على البحار الآتية ما عدا البحر .....  
(الأحمر - المتوسط - العربي - الأسود)
- ٤- يمتد الجزء الأكبر من الوطن العربي في الجزء ..... من الكرة الأرضية  
(الشمال الغربي - الجنوبي الشرقي - الشمال الشرقي - الجنوب الغربي)

## نموذج إمتحان

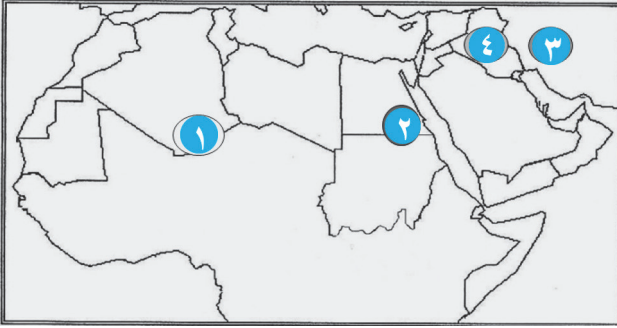
## تضاريس الوطن العربي

## 2

## الدرس

أ أمامك خريطة للوطن العربي وضع ما تدل عليه الأرقام:

السؤال الأول



- ١- هضبة .....
- ٢- جبال .....
- ٣- جبال .....
- ٤- سهول فيضية .....

ب بم تفسر:

١- البراكين من العوامل التي تؤدي إلى تشكيل سطح الأرض.

.....

.....

٢- لم تقف التضاريس عائقاً في طريق الوحدة العربية.

.....

.....

٣- تكوين الشواطئ والدالات النهرية.

.....

.....

٤- ارتفاع الكثافة السكانية في السهول الفيضية.

.....

.....

أ أسئلة متنوعة (فكر وأبعر):

السؤال الثاني

١- ما العلاقة بين: التعرية المائية وتشكيل سطح الأرض

.....

.....

٢- ما المقصود ب: واحة

.....  
.....

٣- ماذا يحدث إذا: لم يتعرض الوطن العربي لحركات التوائية

.....  
.....

٤- ما النتائج التي تترتب على: الحركات الالتوائية

.....  
.....

ب) ضع علامة صواب أمام العبارة الصحيحة وعلامة خطأ أمام العبارة الخاطئة:

- ١- تعد جبال كردستان وزاجروس من الجبال الانكسارية. ( )
- ٢- تقع سهول دجلة والفرات في الأردن. ( )
- ٣- من أمثلة الواحات التي يعيش بها السكان واحة الكفرة بليبيا. ( )
- ٤- هضبة إفريقيا الشمالية أكثر الهضاب ارتفاعاً في الوطن العربي. ( )

ج) اختر الإجابة الصحيحة مما بين الأقواس:

- ١- من الأودية الجافة في الوطن العربي وادي.....  
(العلاقي - دجلة - النيل - جوبا)
- ٢- تكونت مرتفعات البحر الأحمر نتيجة حركات.....  
(التوائية - انكسارية - ثورات بركانية - تيجانية)
- ٣- من أهم الظواهر الطبيعية التي تميز هضاب الوطن العربي وجود.....  
(الواحات - التكوينات الرملية - الأودية الجافة - كل ما سبق)
- ٤- من السهول الساحلية الغنية بمصادر الطاقة سهول.....  
(البحر المتوسط - البحر الأحمر - وادي النيل - نهر الأردن)

## نموذج إمتحان

### التمهيدي

### الدرس

#### السؤال الأول أ اكتب ما تتنير إليه العبارات الآتية:

١- حضارة قامت في شبه الجزيرة العربية.

.....

٢- دولة وثنية حكمت العراق واليمن.

.....

٣- عبادة ظهرت مع مرور الزمن بشبه الجزيرة أدت لابتعاد بعض العرب عن التوحيد.

.....

٤- أشهر قبائل العرب بمكة.

.....

#### ب بم تفسر:

١- تباين صفات العرب قبل الإسلام.

.....  
.....

٢- شهرة النابغة الذبياني لدى عرب شبه الجزيرة.

.....  
.....

٣- أهمية وجود قانون داخل كل قبيلة عربية قبل الإسلام.

.....  
.....

٤- كانت حرفة الزراعة قليلة في شبه الجزيرة العربية.

.....  
.....

#### السؤال الثاني أ أسئلة متنوعة» (فكر وأبج):

١- ما رأيك في: عادة وأد البنات في المجتمع العربي قبل الإسلام؟

.....  
.....

## ٢- ما المقصود ب: وأد البنات؟

.....

.....

## ٣- اذكر: صفات العرب الحميدة قبل الإسلام.

.....

.....

## ٤- ما النتائج التي ترتبت على: خروج تجار مكة لليمن شتاءً.

.....

.....

## ب) ضع علامة صواب أمام العبارة الصحيحة وعلامة خطأ أمام العبارة الخاطئة:

- ١- انقسم المجتمع العربي قديماً إلى البدو والحضر. ( )
- ٢- كان أهل مكة يقومون برحلتين الشتاء إلى الشام والصيف إلى اليمن. ( )
- ٣- انتشرت اليهودية والمسيحية في أجزاء كثيرة من شبه الجزيرة العربية. ( )
- ٤- لم تنحرف العبادة عن التوحيد في شبه الجزيرة العربية. ( )

## ج) اختر الإجابة الصحيحة مما بين الأقواس:

- ١- عكاظ وذى المجاز من أشهر ..... عند العرب.  
(المدن - القبائل - الأسواق - الشهور)
- ٢- كان النظام ..... هو النظام السياسي السائد في شبه الجزيرة العربية  
(الملكى - الجمهورى - القبلى - الطبقي)
- ٣- دولة الفرس احتلت بعض البلاد العربية مثل .....  
(بلاد الشام - مصر - اليمن - فلسطين)
- ٤- قامت مملكة ..... في شمال شبه الجزيرة العربية قبل الإسلام  
(يثرب - معين - الحيرة - سبأ)

## نموذج إمتحان

## المولد والنشأة

## 1

## الدرس

## أ لمن تنسب الأعمال الآتية:

## السؤال الأول

١- غلام السيدة خديجة الذي وصف لها صفات الرسول.

٢- اخذ الرسول عندما ولد وطاف به عند الكعبة وسماه محمدًا.

٣- أراد هدم الكعبة.

٤- أم الرسول ( ص ) وماتت وهو في السادسة.

## ب بم تفسر:

١- حرص السيدة خديجة على الزواج من الرسول.

٢- إرسال قريش أبنائها ليتربوا في البادية.

٣- أهمية وجود الرسول في بيت عمه بالنسبة لخصاله.

٤- وفاة جد الرسول عبد المطلب.

## «أسئلة متنوعة»:

## السؤال الثاني

١- ما رأيك في: انتقال أطفال إشراف مكة للبادية؟

٢- ما المقصود ب: عام الفيل؟

.....  
.....

٣- اذكر: نسب الرسول محمد (ص)؟

.....  
.....

٤- ما النتائج التي ترتبت على: تمتع الرسول بصفتي الأمانة والصدق؟

.....  
.....

**ب) ضع علامة صواب أمام العبارة الصحيحة وعلامة خطأ أمام العبارة الخاطئة:**

- ١- اهتم أهل الحضرة بشبه الجزيرة العربية بفصاحة لسان أبنائهم. ( )
- ٢- كان الرسول يقوم برحلتين الشتاء إلى الشام والصيف إلى اليمن. ( )
- ٣- عام الفيل هو العام الذي توفيت فيه السيدة خديجة. ( )
- ٤- التزم الرسول بعادات شبه الجزيرة العربية الحميدة والسيئة. ( )

**ج) اختر الإجابة الصحيحة مما بين الأقواس:**

- ١- لقب الرسول قبل البعثة بـ .....  
(الصادق الأمين - الكريم - المحارب - الودود)
- ٢- اختار..... اسم محمد للرسول ليكون محمودًا في السماء وعلى الأرض.  
(أبيه - جده - أمه - عمه)
- ٣- عاش الرسول حتى بلغ السادسة عند .....  
(أبيه - جده - أمه - عمه)
- ٤- الزوجة الأولى للرسول (ص) .....  
(خديجة - عائشة - زينب - أم سلمة)

الكتاب كليب